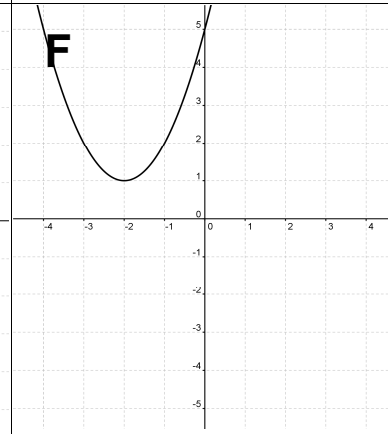
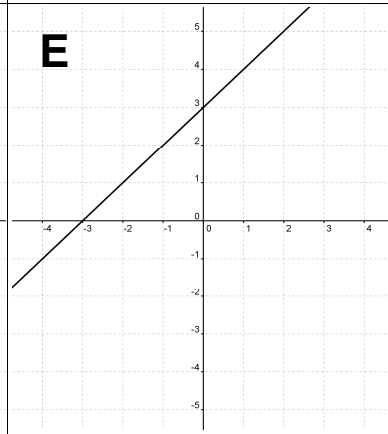
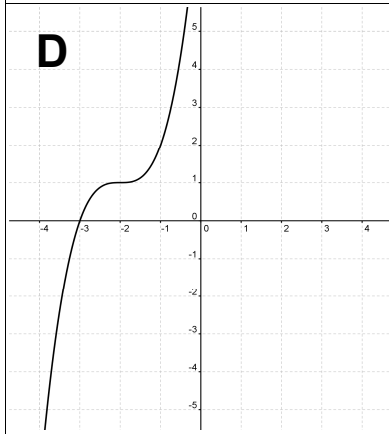


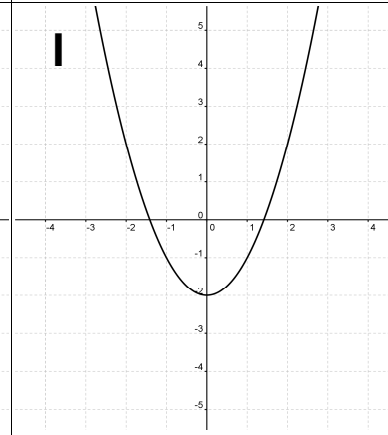
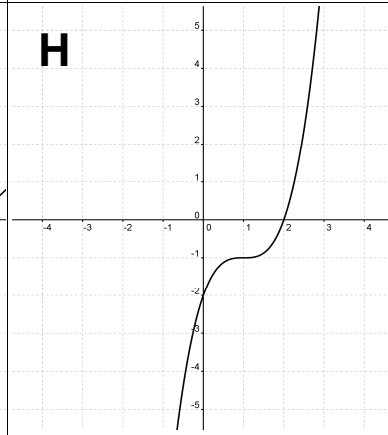
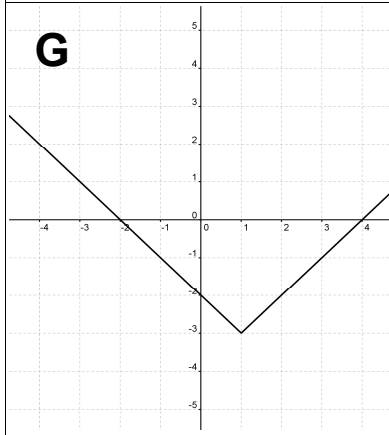
Zapiši črko
 $f(x) = |x - 1| - 3$

Katere funkcije
 so injektivne?



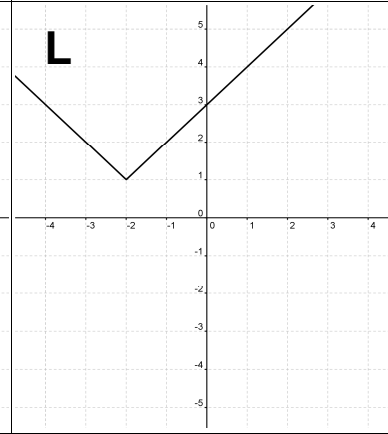
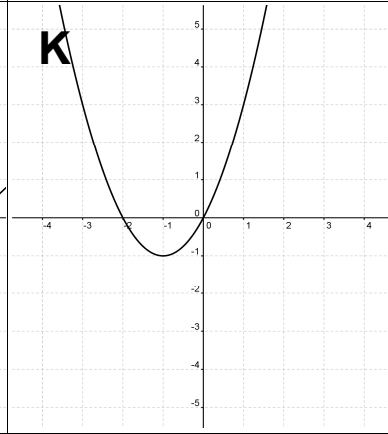
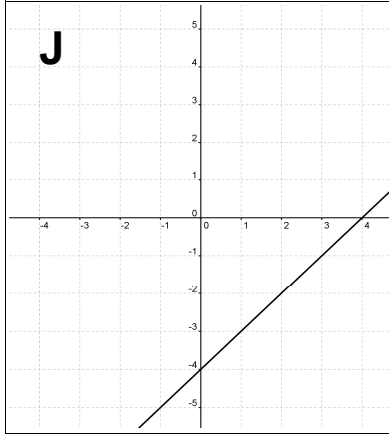
Zapiši črko
 $f(x) = (x + 2)^3 + 1$

Katere funkcije
 imajo le eno ničlo?



Zapiši črko
 $f(x) = x^2 - 2$

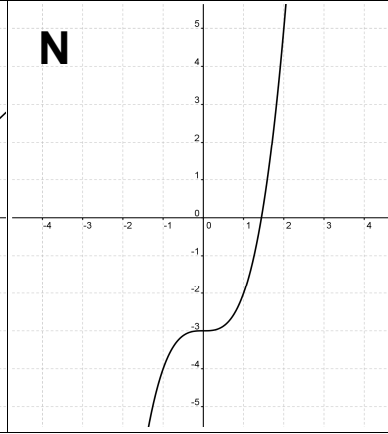
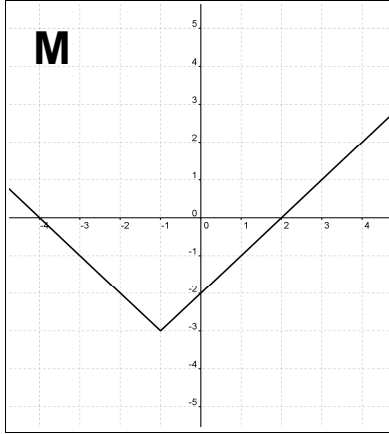
Katere funkcije
 v intervalu $x \in (0, \infty)$
 le naraščajo?



Zapiši črko
 $f(x) = x - 3$

Kakšen je zapis
 funkcije **L**?

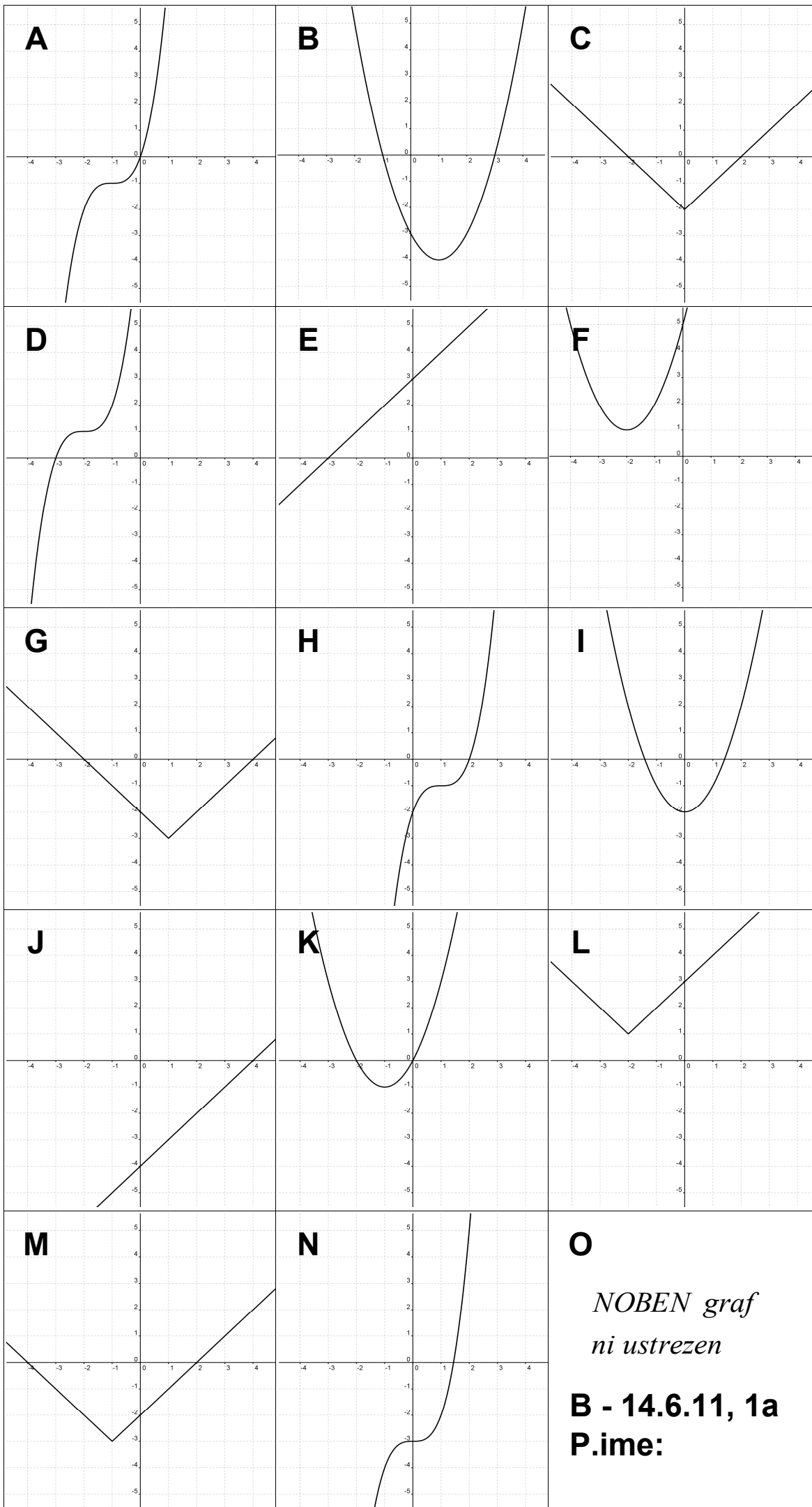
Koliko je ničla
 funkcije **N**?



O
 NOBEN graf
 ni ustrezen
A - 14.6.11, 1a
P.ime:

Izračunaj začetno
 vrednost funkcije **D**?

Kje je funkcija **B**
 negativna?



Zapiši črko
 $f(x) = (x-1)^3 - 1$

Katere funkcije so surjektivne?

Zapiši črko

$f(x) = (x+2)^3 + 1$

Katere funkcije nimajo ničle?

Zapiši črko

$f(x) = |x| - 2$

Katere funkcije v intervalu $x \in (-\infty, 0)$ le padajo?

Zapiši črko
 $f(x) = x + 4$

Kakšen je zapis funkcije **B**?

Koliko sta ničli funkcije **I**?

Izračunaj začetno vrednost funkcije **D**?

Kje je funkcija **G** negativna?