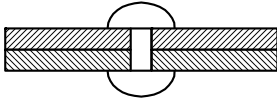


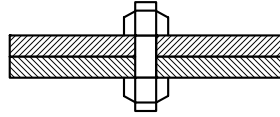
### 7. naloga

Kovinske ploščice spajamo z različnimi postopki.

- a) Na prazne črte pod risbe zapiši postopke spajanja, s katerimi sta spojeni kovinski ploščici debeline 3 mm.



A \_\_\_\_\_

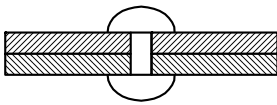


B \_\_\_\_\_

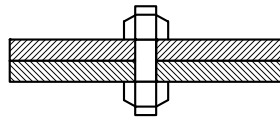


C \_\_\_\_\_

- b) Na prazne črte pod risbe zapiši elemente spajanja, s katerimi sta spojeni kovinski ploščici.



A \_\_\_\_\_



B \_\_\_\_\_



C \_\_\_\_\_

**2 točki**

### Navodila za vrednotenje

**Skupaj 2 točki**

a)

7.1 A: kovičenje, B: vijačenje, C: lotanje ali spajkanje ali varjenje ali lepljenje

Pravilne navedbe (A, B in C) ..... 1 točka

b)

7.2 A: kovica, B: vijak, C: lot ali spajka ali var ali lepilo

Pravilne navedbe (A, B in C) ..... 1 točka

### ***Parametri mrežnega diagrama***

a)

#### **7.1**

Tip naloge: naloga dopolnjevanja in kratkih odgovorov

Vsebinsko področje: gradiva in obdelave

Kognitivna raven: znanje in poznavanje

Razred: 8. razred

Standard: minimalni

Cilj: Pozna in imenuje postopke spajanja kovin.

b)

#### **7.2**

Tip naloge: naloga dopolnjevanja in kratkih odgovorov

Vsebinsko področje: gradiva in obdelave

Kognitivna raven: znanje in poznavanje

Razred: 8. razred

Standard: minimalni

Cilj: Pozna in imenuje elemente za spajanje kovin.