

ODDELEK PODALJŠANEGA BIVANJA 3+4

SREDA, 13. 5. 2020

Vsem skupaj en lep, sončen pozdrav!



No, takole imamo. Zdaj, ko smo tik pred tem, da se ponovno vidimo, bomo imeli pa slabo vreme. Namesto, da bi prihodnje majske in junijske popoldneve prezivali zunaj, na svežem zraku, bomo očitno morali ostati med štirimi stenami. Jaz se ne dam, kaj pa vi? Zagotovo vreme ne bo ves čas takšno, kmalu bo posijalo sonce, v to sem prepričana. 😊



Danes poskrbi za svoje telo tako, da opraviš nekaj gimnastičnih vaj po svoji izbiri. Ne pozabi, da moraš razgibati celo telo, zato izbiraj takšne vaje, ki poskrbijo za vse mišice v telesu. Kaj pa vaje za moč? Tudi teh ne pozabi.

Kaj pa tvoje šolske obveznosti? Si opravil/opravila že vse? Če ti je še kaj ostalo, se jih hitro loti, da se boš lahko čimprej lotil/lotila dnevne naloge. Nekaj časa nameni tudi učenju, saj moraš zagotovo v prihodnjih dneh pridobiti še kakšno oceno.



Pa si že pri današnji dnevni nalogi.

Ker vem, da se rad/rada igraš s števili, sem ti danes pripravila dve **MATEMATIČNI UGANKI**.

Vsa navodila in obe uganki sta pritrjeni na koncu dokumenta.

Rešitvi obeh matematičnih ugank pa ti zaupam jutri. Kar veselo na delo. 😊



Nikar ne pozabi poskrbeti tudi za svoj želodček. 🤗

Danes si privošči kakšen jogurt, mogoče štručko, saj boš drugače težko razmišljal/razmišljala.

Lepo se imej, izkoristi popoldne kolikor se da in se bereva ponovno jutri.




MATEMATIČNI UGANKI

RAČUNI V LOVKAH

Kako mi je ime?


























Seštej števila v vsaki lovki in seštevke vpiši v prazne krogce. Dobljena števila razporedi po vrsti od največjega proti najmanjšemu v spodnjo vrsto krogcev, pod vsakega pa napiši črko iz ustrezne lovke. Kako je ime hobotnici?








Ime mi je

ŽIVALSKI RAČUNI

Vsaka žival pomeni določeno število.
Na koncu računov so v krogcih napisani seštevki.
Poskusi ugotoviti, koliko so vredne živali.

					12
					15
					9
					14
					20

	=		=		=		=		=
---	---	---	---	---	---	--	---	---	---