

## 23. Vaja

Na osnovi serije in tabel trajanj in dinamik oblikujte (izpišite) enoglasno melodijo v smislu totalne serializacije oziroma totalne organizacije.







Serija tonskih višin naj bo uporabljena samo v P obliki:

Serijo trajanj razvrstite v smislu naslednje tabele  
in po naslednjem vrstnem redu,

1 2 3 4 5 6 1 3 2 4 3 5 4 6 5 1 6 2 1 4 2 5 3 6 4 1 5 2 6 3

serijo dinamičnih stopenj razvrstite v smislu naslednje tabele.

<i>p</i>	<i>mf</i>	<i>pp</i>	<i>ppp</i>	<i>f</i>
1	2	3	4	5

					
1	2	3	4	5	6

in po naslednjem vrstnem redu:

1 3 5 2 4 1 2 5 1 4 5 3 4 2 3 1 5 4 3 2 1

